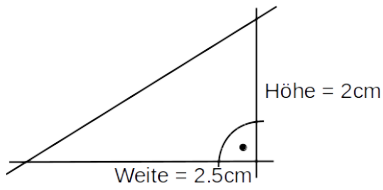
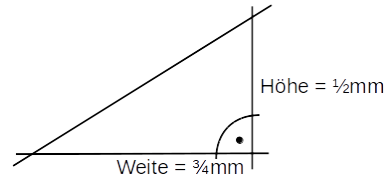


(1) Bestimme die Steigung [%].

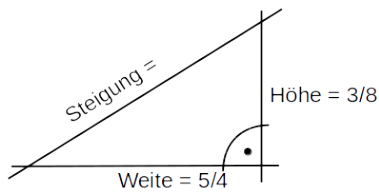
a)



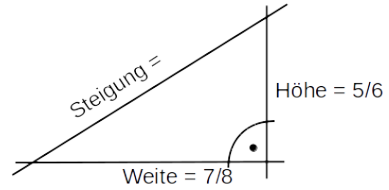
b)



c)



d)



(2) a) Weite = 8cm
Steigung = 50%
Höhe = ?

b) Weite = 7cm
Steigung = 80%
Höhe = ?

c) Höhe = 5cm
Steigung = 70%
Weite = ?

d) Höhe = 4.5cm
Steigung = 60%
Weite = ?

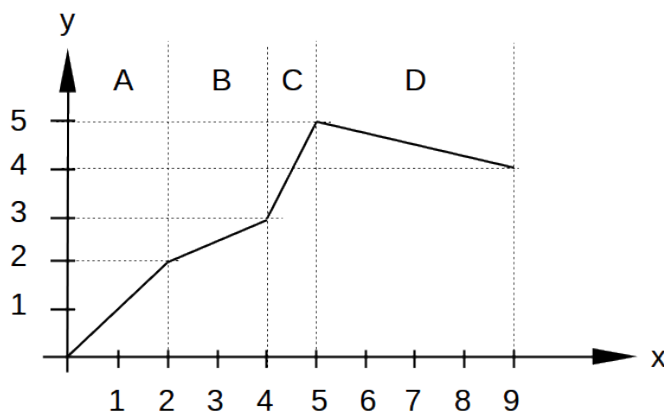
(3) Bestimme die Steigung [%] der Geraden die durch die beiden Punkte geht.

a) (1|-1), (3|1)

b) (1|4), (4|3)

c) (-2|0), (-1|2)

(4)



Bestimme die Steigung im

- a) Bereich A
- b) Bereich B
- c) Bereich C
- d) Bereich D

Bestimme die **mittlere** Steigung

- e) im Bereich A-B
- f) im Bereich B-D
- g) im Bereich C-D
- h) im Bereich A-D