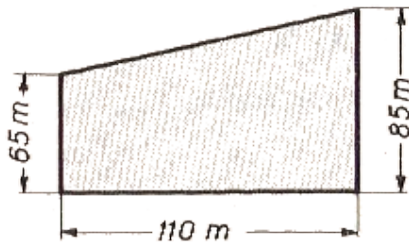
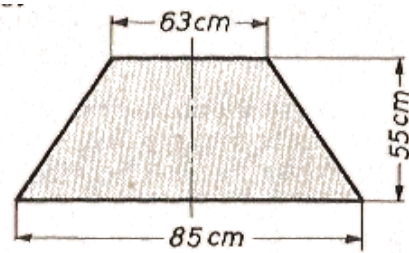


(1)



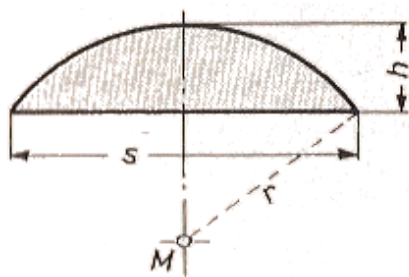
Wieviel Meter Zaun sind für dieses Grundstück notwendig?

(2)



Berechne den Umfang des gleichschenkligen Trapezes in m.

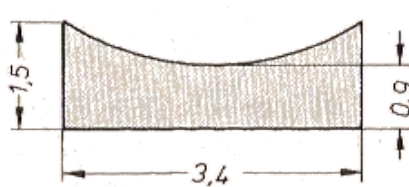
(3)



Berechne den Radius r des Kreisbogens:

- a) allgemein
- b) für $h = 2\text{cm}$, $s = 24\text{cm}$.

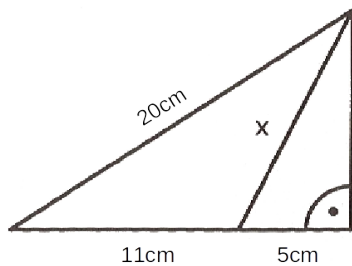
(4)



Wie lang ist der Radius des Bogens? (Alle Masse sind in m).

(5) Berechne die Seite x .

a)



b)

